



SERVICES CULTURE ÉDITIONS
RESSOURCES POUR
L'ÉDUCATION NATIONALE

**Ce document a été numérisé par le CRDP de Montpellier pour la
Base Nationale des Sujets d'Examens de l'enseignement professionnel**

Ce fichier numérique ne peut être reproduit, représenté, adapté ou traduit sans autorisation.

DOSSIER SUJET

BEP MÉTIERS D'ART ARTS DE LA PIERRE

EP1

Sommaire

BARÈME RÉCAPITULATIF			
Questions	Folios	Thèmes	Nb de pages
		Partie technologie (pour 10 points)	
		- Dossier sujet	5
		- Dossier technique	2
		Partie arts appliqués (pour 10 points)	
		- Dossier sujet	3

PILOTAGE NATIONAL MÉTROPOLE-RÉUNION				BEP MÉTIERS D'ART- ARTS DE LA PIERRE		
Session 2013	Code	Forme	Durée	PAGE DE GARDE	Coef.	4
Épreuve	EP1	Écrite	3H 00	Épreuve de technologie et d'arts appliqués	Folio	Page de garde

NE RIEN ÉCRIRE DANS CETTE PARTIE

EPREUVE DE TECHNOLOGIE

ON DEMANDE :

- 1- De terminer le dessin de l'élévation ainsi que celui de la vue de dessus de la base repérée « 1 » sur le dossier technique en page 1/2. Ce travail sera réalisé à l'échelle 1/2 au crayon mine graphite (sur document réponse 3/5).
- 2- De compléter le calepin d'appareil, en respectant les normes (sur document réponse 4/5).
- 3- De compléter le schéma de l'échafaudage présenté sur la page 5/5. Vous devrez représenter les éléments qui participent aux principes de :
 - liaison avec le sol
 - stabilité (contreventement)
 - dispositif antichute (lisse, sous lisse et plinthe)Vous devrez indiquer les hauteurs des éléments du dispositif antichute.

ON DONNE :

La localisation de la base (repère 1 sur la page 1/2 du dossier technique).
Le profil de la base à l'échelle 1 (document 2/2 du dossier technique).

ON EXIGE :

BARÈME DE CORRECTION

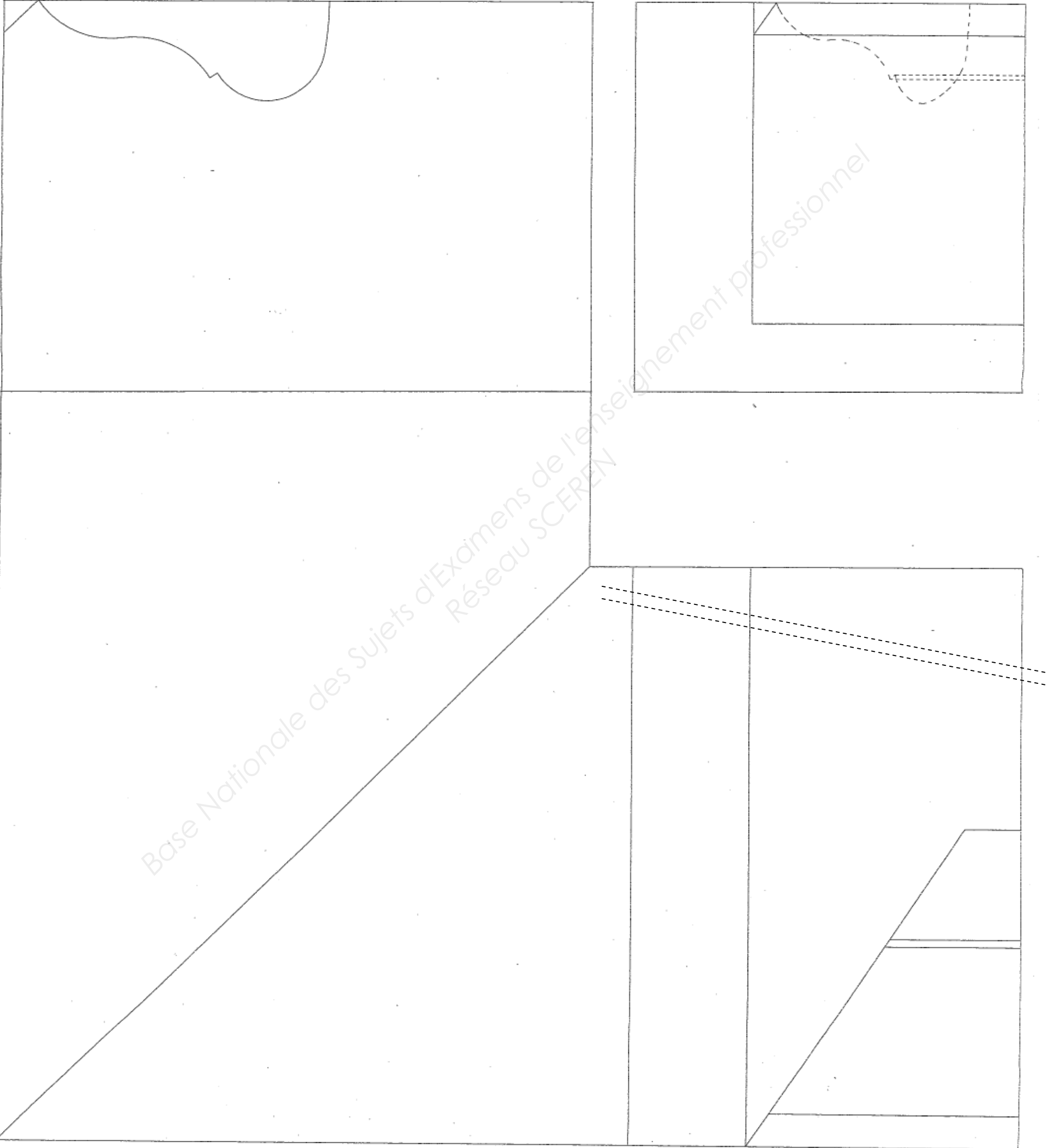
- | | |
|---|-------|
| 1- L'exactitude des vues demandées : | |
| 1.1 - l'élévation | 3 pts |
| 1.2 - la vue de dessus | 2 pts |
| 2- Le calepin complet suivant les normes données | 2 pts |
| 3- L'échafaudage conforme aux règlements en vigueur | 3 pts |

Evaluation de la partie « technologie » sur 10 points.

BEP MÉTIERS D'ART- ARTS DE LA PIERRE	Code :	Session 2013	SUJET
EP 1 Épreuve de technologie	Durée : 1 H 30	Coeff : 4	Page 2/5

NE RIEN ÉCRIRE DANS CETTE PARTIE

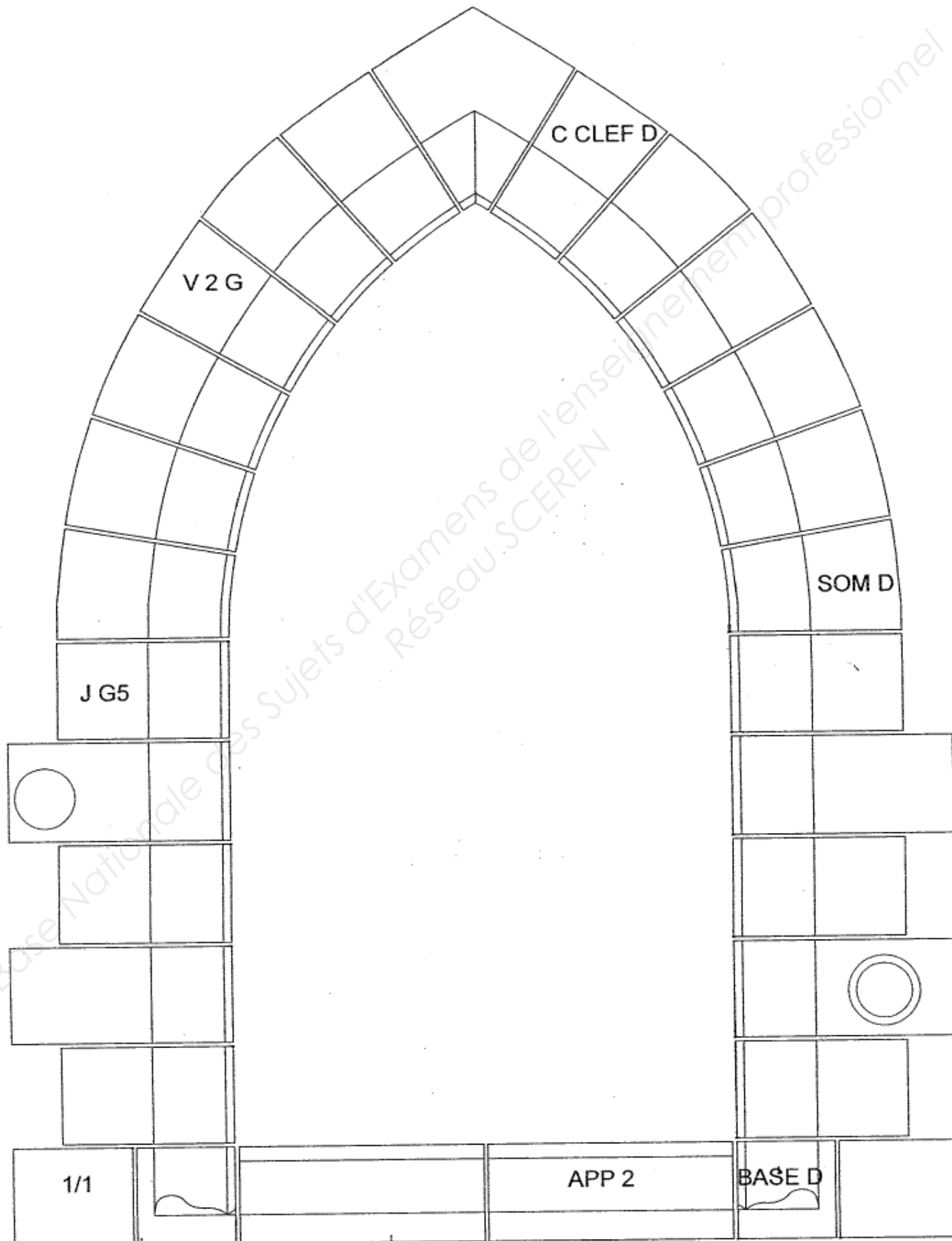
Document réponse de la base droite (échelle : ½)



BEP MÉTIERS D'ART- ARTS DE LA PIERRE	Code :	Session 2013	SUJET
EP 1 Épreuve de technologie	Durée : 1 H 30	Coeff : 4	Page 3/5

NE RIEN ÉCRIRE DANS CETTE PARTIE


DOCUMENT REPONSE
CALEPIN



BEP MÉTIERS D'ART- ARTS DE LA PIERRE	Code :	Session 2013	SUJET
EP 1 Épreuve de technologie	Durée : 1 H 30	Coeff : 4	Page 4/5

NE RIEN ÉCRIRE DANS CETTE PARTIE

DOCUMENT REPONSE
ECHAFAUDAGE



BEP MÉTIERS D'ART- ARTS DE LA PIERRE	Code :	Session 2013	SUJET
EP 1 Épreuve de technologie	Durée : 1 H 30	Coeff : 4	Page 5/5